





Les données alimentaires

Exercices de mathématiques

Primaire



CORRIGÉ

Les données alimentaires

Exercice 1 : Nous avons effectué un sondage auprès d'élèves et d'enseignants à propos de leur préférence entre les bananes et les fraises. Réponds aux questions à l'aide des données du tableau.

	Élèves	Enseignants
Préférence pour les bananes	28	4
Préférence pour les fraises	53	11
Préférence pour les bananes et les fraises	17	3

Question 1 : Combien d'élèves préfèrent les bananes?

28

Question 2 : Combien de personnes préfèrent à la fois les bananes et les fraises?


$17 + 3 = \underline{20}$

Question 3 : Combien de personnes préfèrent uniquement les fraises?

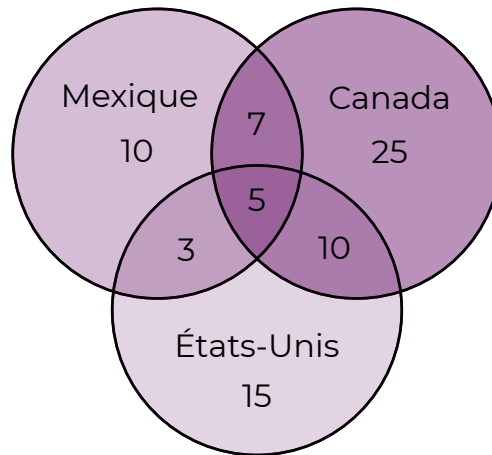
$53 + 11 = \underline{64}$

Question 4 : Combien de personnes ont été interrogées?

$28 + 4 + 53 + 11 + 17 + 3 = \underline{116}$



Exercice 2 : À l'épicerie, tu peux avoir un même fruit, mais avec des variétés provenant de plusieurs pays différents. Le diagramme ci-dessous indique les quantités de fruits et légumes provenant du Canada, des États-Unis et du Mexique.



Question 1 : Combien de fruits et légumes proviennent du Canada?

25

Question 2 : Combien de fruits et légumes ne sont pas du Canada?

$15 + 10 + 3 = \underline{28}$

Question 3 : Combien de fruits et légumes sont cultivés dans au moins 2 pays?

$10 + 3 + 7 + 5 = \underline{25}$

Question 4 : Combien de légumes proviennent uniquement d'un seul pays?

$10 + 25 + 15 = \underline{50}$

Question 5 : Combien de fruits et légumes ai-je observés à l'épicerie?

$10 + 25 + 15 + 3 + 10 + 7 + 5 = \underline{75}$

FEUILLE D'EXERCISES

Les données alimentaires

Exercice 1 : Nous avons effectué un sondage auprès d'élèves et d'enseignants à propos de leur préférence entre les bananes et les fraises. Réponds aux questions à l'aide des données du tableau.


	Élèves	Enseignants
Préférence pour les bananes	28	4
Préférence pour les fraises	53	11
Préférence pour les bananes et les fraises	17	3

Question 1 : Combien d'élèves préfèrent les bananes?

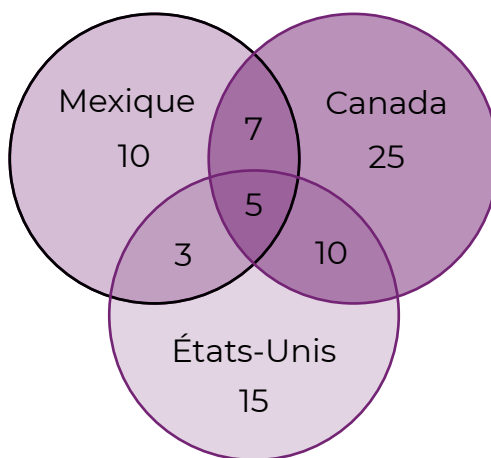
Question 2 : Combien de personnes préfèrent à la fois les bananes et les fraises?

Question 3 : Combien de personnes préfèrent uniquement les fraises?

Question 4 : Combien de personnes ont été interrogées?



Exercice 2 : À l'épicerie, tu peux avoir un même fruit, mais avec des variétés provenant de plusieurs pays différents. Le diagramme ci-dessous indique les quantités de fruits et légumes provenant du Canada, des États-Unis et du Mexique.



Question 1 : Combien de fruits et légumes proviennent du Canada?

Question 2 : Combien de fruits et légumes ne sont pas du Canada?

Question 3 : Combien de fruits et légumes sont cultivés dans au moins 2 pays?

Question 4 : Combien de légumes proviennent uniquement d'un seul pays?

Question 5 : Combien de fruits et légumes ai-je observés à l'épicerie?

Trousse
À la soupe!

équiterre

Ce projet a été financé par le ministère de l'Agriculture, des Pêcheries et de l'Alimentation du Québec, dans le cadre de la mise en œuvre de la Politique bioalimentaire 2018-2025, Alimenter notre monde.

Québec 